

Subject
Code:

9120/TF-DT/PP-E

SET - (A)

Question Booklet No.

500616

परीक्षा केन्द्राध्यक्ष की मोहर
Seal of Superintendent of Examination Centreपरीक्षार्थी द्वारा बॉल-प्वाइण्ट पेन से भरा जाए
To be filled in by Candidate by Ball-Point pen onlyउत्तर-शीट का क्रमांक
Sl. No. of Answer-Sheetअनुक्रमांक
Roll No.

घोषणा : मैंने नीचे दिये गये निर्देश अच्छी तरह पढ़कर समझ लिए हैं।

Declaration : I have read and understood the instructions given below.

वीक्षक के हस्ताक्षर

(Signature of Invigilator).....

वीक्षक के नाम

(Name of Invigilator).....

अभ्यर्थी के हस्ताक्षर

(Signature of Candidate).....

अभ्यर्थी का नाम

(Name of Candidate).....

पूर्णांक - 100

समय - 2 घंटे

प्रश्न-पुस्तिका में पृष्ठों की संख्या
Number of Pages in this Question Booklet

32

प्रश्न-पुस्तिका में प्रश्नों की संख्या
Number of Questions in this Question Booklet

100

INSTRUCTION TO CANDIDATES

1. Immediately after getting the booklet read instructions carefully, mentioned on the front and back page of the question booklet and do not open the seal given on the right hand side, unless asked by the invigilator.
2. Write your Roll No., Answer-Sheet No., in the specified places given above and do your signature.
3. Make all entries in the OMR Answer-Sheet as per the given instructions otherwise Answer-Sheet will not be evaluated.
4. After opening the seal, ensure that the Question Booklet contains total no. of pages as mentioned above and printing of all the 100 questions is proper. If any discrepancy is found, inform the invigilator within 15 minutes and get the correct question booklet.
5. While answering the question from the Question Booklet, for each question choose the correct/most appropriate option out of four most appropriate options given, as answer and darken the circle provided against that option in the OMR Answer-Sheet, bearing the same serial number of the question. Darken the circle only with Black or Blue ball point pen.
6. Darken the circle of correct answer properly otherwise answers will not be evaluated. The candidate will be fully responsible for it.
7. There are 100 objective type questions in this Question Booklet. 1 mark is allotted for each correct answer.
8. No negative marking will be done.
9. Do not write anything anywhere in the Question Booklet and the Answer-Sheet except making entries in the specified places otherwise OMR sheet will not be evaluated.
10. After completion of the examination, only OMR Answer-Sheet is to be handed over to the invigilator. Carbon copy of the Answer-Sheet and Question Booklet may be taken away by the examinee.
11. This Question Booklet consists of Five Parts :
 - (i) First Part : General Mental Eligibility - 30 Marks
 - (ii) Second Part : General Knowledge - 20 Marks
 - (iii) Third Part : Educational Interest - 30 Marks
 - (iv) Fourth Part : General Hindi - 10 Marks
 - (v) Fifth Part : General English - 10 Marks
 Each question contains 1 mark. All questions are compulsory.
12. In case of any ambiguity in Hindi version the English version shall be considered authentic.

अभ्यर्थियों के लिए निर्देश

1. प्रश्न-पुस्तिका मिलते ही मुख पृष्ठ एवं अंतिम पृष्ठ में दिए गए निर्देशों को अच्छी तरह पढ़ लें। दाहिनी ओर लगी सील को वीक्षक के कहने से पूर्व न खोलें।
2. ऊपर दिए हुए निर्धारित स्थानों में अपना अनुक्रमांक, उत्तर-शीट का क्रमांक लिखें तथा अपने हस्ताक्षर करें।
3. ओ.एम.आर. उत्तर-शीट में समस्त प्रविष्टियाँ दिये गये निर्देशानुसार करें अन्यथा उत्तर-शीट का मूल्यांकन नहीं किया जाएगा।
4. सील खोलने के बाद सुनिश्चित कर लें कि प्रश्न-पुस्तिका में कुल पृष्ठ ऊपर लिखे अनुसार दिए हुए हैं तथा उसमें सभी 100 प्रश्नों का मुद्रण सही है। किसी भी प्रकार की त्रुटि होने पर 15 मिनट के अंदर वीक्षक को सूचित कर सही प्रश्न-पुस्तिका प्राप्त करें।
5. प्रत्येक प्रश्न हेतु प्रश्न-पुस्तिका में प्रश्न के नीचे दिए गए चार विकल्पों में से सही/सबसे उपयुक्त केवल एक ही विकल्प का चयन कर ओ.एम.आर. उत्तर-शीट में सही विकल्प वाले गोले को जो उस प्रश्न के सरल क्रमांक से सम्बंधित हो काले या नीले बॉल-प्वाइण्ट पेन से भरें।
6. सही उत्तर वाले गोले को अच्छी तरह से भरें, अन्यथा उत्तरों का मूल्यांकन नहीं होगा। इसकी समस्त जिम्मेदारी परीक्षार्थी की होगी।
7. प्रश्न-पुस्तिका में 100 वस्तुनिष्ठ प्रश्न दिए गए हैं। प्रत्येक सही उत्तर हेतु 1 अंक आबंटित किया गया है।
8. ऋणात्मक मूल्यांकन नहीं किया जायेगा।
9. प्रश्न-पुस्तिका तथा उत्तर-शीट में निर्दिष्ट स्थानों पर प्रविष्टियाँ भरने के अतिरिक्त कहीं भी कुछ न लिखें। अन्यथा OMR शीट का मूल्यांकन नहीं किया जायेगा।
10. परीक्षा समाप्ति के उपरान्त केवल ओ.एम.आर. उत्तर-शीट वीक्षक को सौंपनी है। उत्तर-शीट की कार्बन प्रति तथा प्रश्न-पुस्तिका परीक्षार्थी अपने साथ ले जा सकते हैं।
11. इस प्रश्न-पुस्तिका में पाँच भाग होंगे :
 - (i) प्रथम भाग : सामान्य मानसिक योग्यता - 30 अंक
 - (ii) द्वितीय भाग : सामान्य ज्ञान - 20 अंक
 - (iii) तृतीय भाग : शिक्षण अभिरूचि - 30 अंक
 - (iv) चतुर्थ भाग : सामान्य हिन्दी - 10 अंक
 - (v) पंचम भाग : सामान्य अंग्रेजी - 10 अंक
 प्रत्येक प्रश्न 1 अंक का है। सभी प्रश्न हल करना अनिवार्य है।
12. यदि हिन्दी भाषा में कोई सन्देह है तो अंग्रेजी भाषा को ही प्रामाणिक माना जायेगा।

SPACE FOR ROUGH WORK / रफ कार्य के लिये जगह

Blank space for rough work in Hindi.

Blank space for rough work in English.

Faint text at the top of the main body, possibly a question or instruction.

Faint text in the middle section of the page.

Faint text in the middle section of the page.

Faint text in the middle section of the page.

Faint text in the middle section of the page.

Faint text in the middle section of the page.

Faint text in the middle section of the page.

Faint text in the middle section of the page.

Faint text in the middle section of the page.

Faint text in the middle section of the page.

Faint text in the middle section of the page.

Faint text at the bottom of the main body, possibly a footer or page number.

FIRST PART
General Mental Eligibility

प्रथम भाग
सामान्य मानसिक योग्यता

1. Which of the following is different from the other three ?

- (A) Goat
- (B) Deer
- (C) Buffalo
- (D) Leopard

1. निम्न में से कौन अन्य तीन से भिन्न है ?

- (A) बकरी
- (B) हिरण
- (C) भैंस
- (D) चीता

2. Find the missing number :

2, 3, 5, 8, 12, 17,

- (A) 23
- (B) 21
- (C) 22
- (D) 19

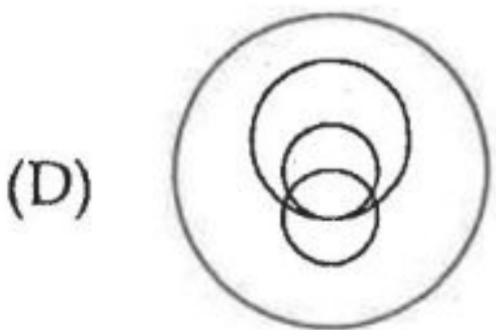
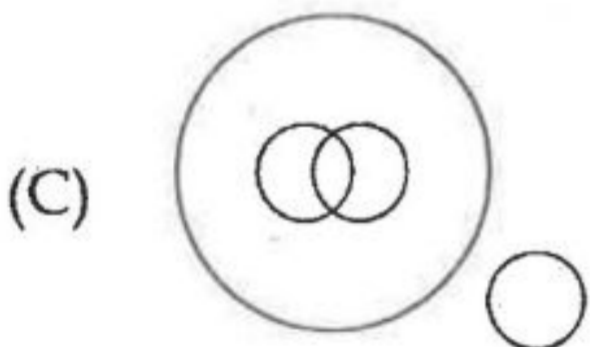
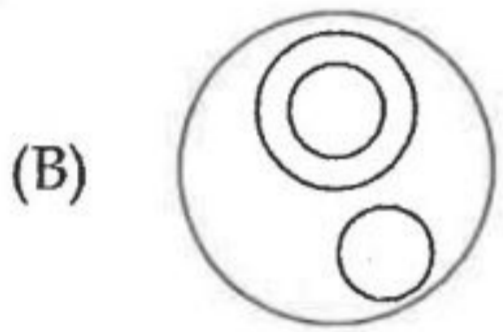
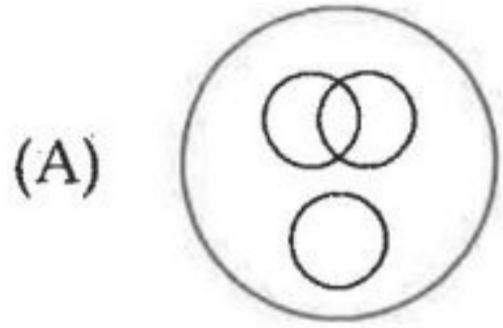
2. विलुप्त संख्या को ज्ञात कीजिए।

2, 3, 5, 8, 12, 17,

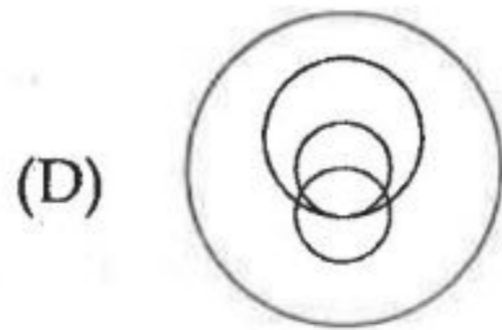
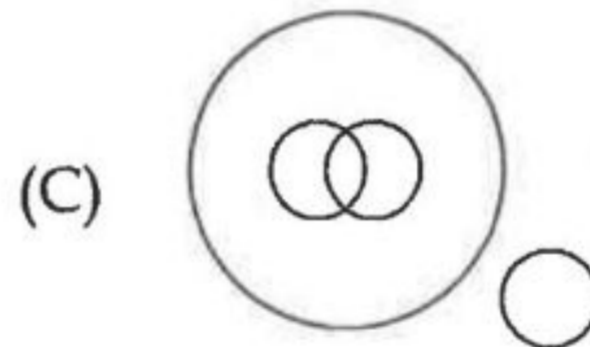
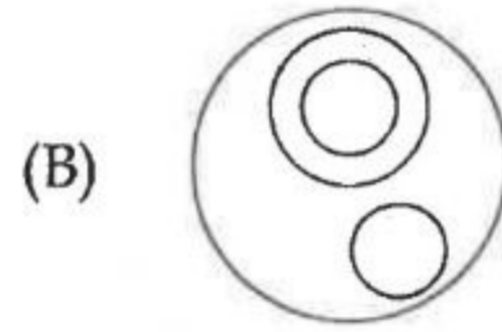
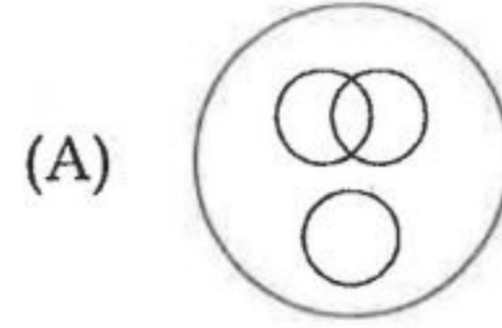
- (A) 23
- (B) 21
- (C) 22
- (D) 19

SPACE FOR ROUGH WORK / रफ कार्य के लिये जगह

3. In a dinner party both fish and meat were served. Some took only fish and some meat. There were some vegetarians who did not accept either. The rest accepted both fish and meat. Which of the following Venn-diagrams correctly reflects this situation ?

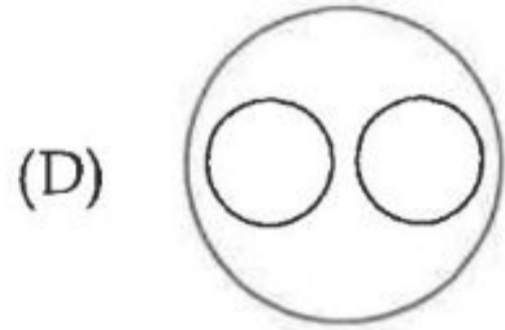
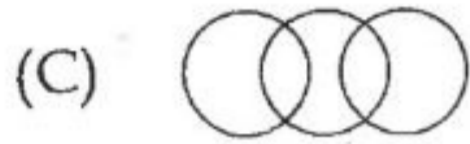
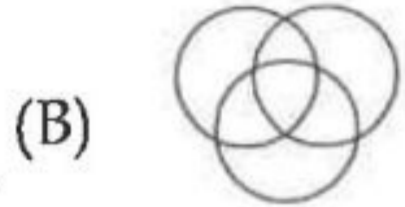
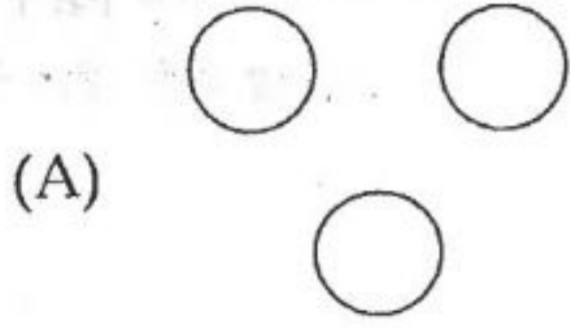


3. एक रात्रि भोज पार्टी में मछली और मांस दोनों परोसा गया। कुछ ने केवल मछली और कुछ ने मांस लिया। कुछ शाकाहारियों ने कुछ भी स्वीकार नहीं किया। बाकी ने मछली और मांस दोनों को स्वीकार किया। निम्नलिखित में से कौन सा वेन आरेख सही ढंग से इस स्थिति को दर्शाता है ?

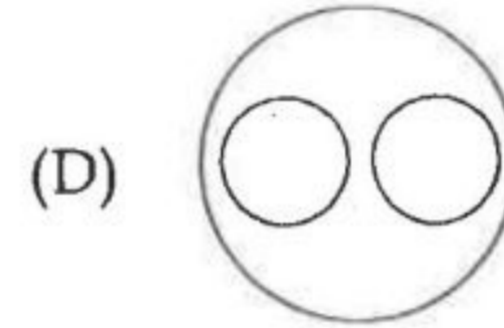
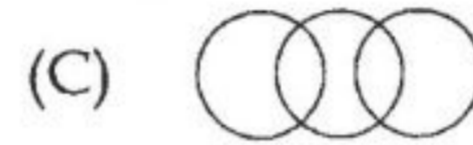
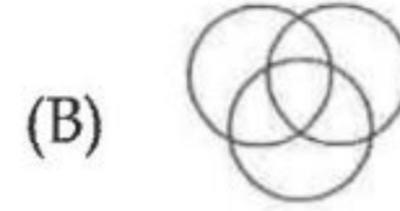
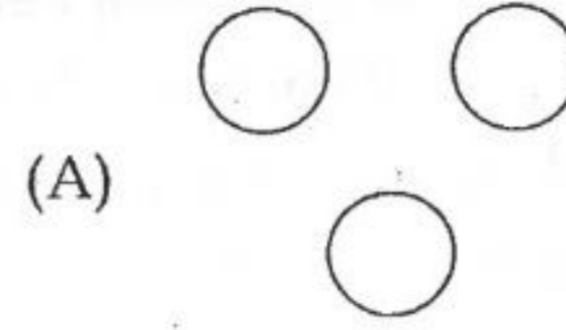


SPACE FOR ROUGH WORK / रफ कार्य के लिये जगह

4. Which of the following diagrams represents correct relationship among Rose, Marigold and Flower ?



4. निम्नलिखित में से कौन सा चित्र गुलाब, गेंदा और फूल के मध्य सही संबंध को दर्शाता है ?



5. Find the missing number :

2, 3, 4, 9, 8, 27, 16, ...

- (A) 87
(B) 75
(C) 81
(D) 68

5. विलुप्त संख्या को ज्ञात कीजिए।

2, 3, 4, 9, 8, 27, 16, ...

- (A) 87
(B) 75
(C) 81
(D) 68

6. Choose the odd one :

- (A) Bhopal
(B) Chandigarh
(C) Jaipur
(D) Patna

6. भिन्न को चुनिए।

- (A) भोपाल
(B) चन्डीगढ़
(C) जयपुर
(D) पटना

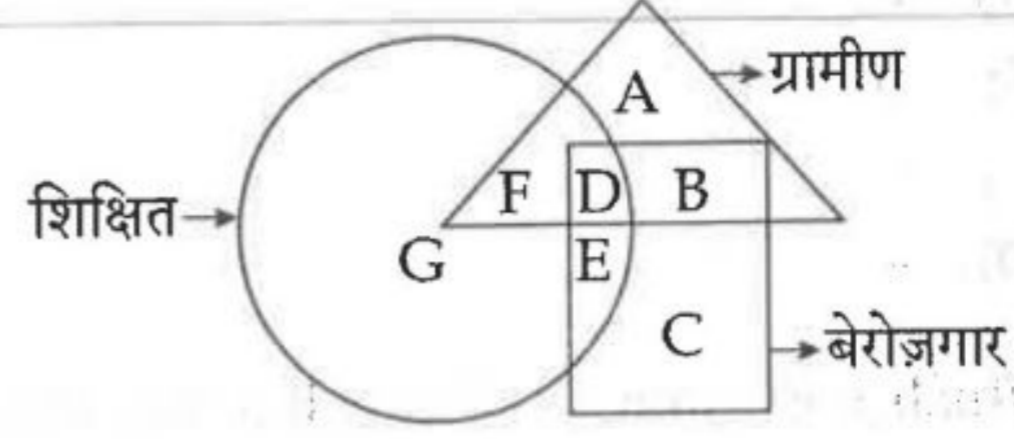
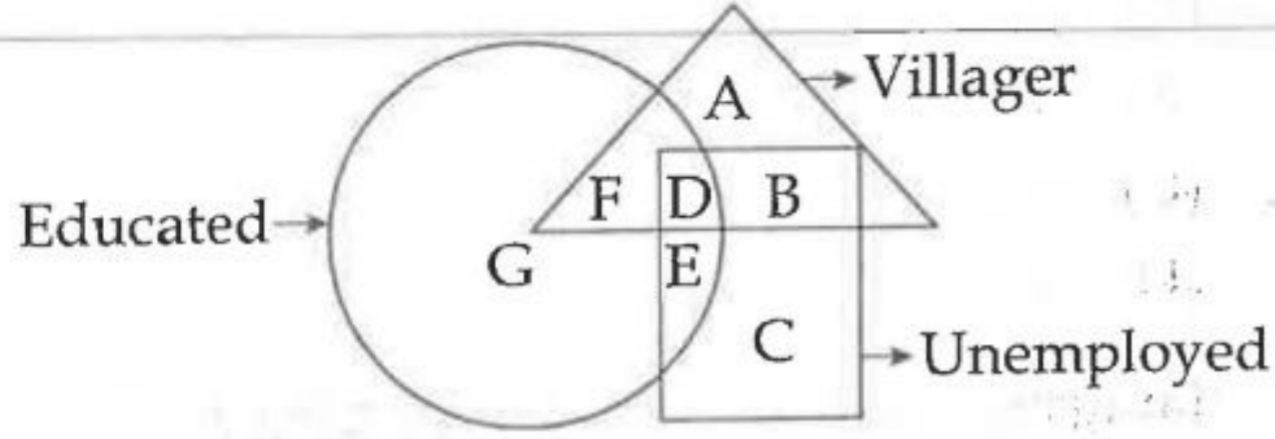
SPACE FOR ROUGH WORK / रफ कार्य के लिये जगह

7. Which will complete the following letter series ?
c, e, __?, g, k, m, q, s
- (A) f
(B) h
(C) l
(D) e
8. Which will complete the following letter series ?
c, g, g, k, m, q, s, __?
- (A) n
(B) w
(C) p
(D) None of these
9. Which will complete the following letter series ?
a, z, b, y, c, w, d, __?, e, s, f, q
- (A) x
(B) v
(C) u
(D) None of these
10. Find the missing number :
705, 728, 774, __, 935, 1050
- (A) 844
(B) 845
(C) 846
(D) 843
11. Choose the odd one :
(A) 3 : 21
(B) 5 : 125
(C) 7 : 343
(D) 10 : 1000
7. निम्नलिखित अक्षर श्रेणी को कौन पूर्ण करेगा ?
c, e, __?, g, k, m, q, s
- (A) f
(B) h
(C) l
(D) e
8. निम्नलिखित अक्षर श्रेणी को कौन पूर्ण करेगा ?
c, g, g, k, m, q, s, __?
- (A) n
(B) w
(C) p
(D) इनमें से कोई नहीं
9. निम्न अक्षर श्रेणी को कौन पूर्ण करेगा ?
a, z, b, y, c, w, d, __?, e, s, f, q
- (A) x
(B) v
(C) u
(D) इनमें से कोई नहीं
10. विलुप्त संख्या को ज्ञात कीजिए।
705, 728, 774, __, 935, 1050
- (A) 844
(B) 845
(C) 846
(D) 843
11. भिन्न को चुनिए।
(A) 3 : 21
(B) 5 : 125
(C) 7 : 343
(D) 10 : 1000

SPACE FOR ROUGH WORK / रफ कार्य के लिये जगह

Direction : For Q.No's 12 and 13, study the following figure carefully and answer the questions.

निर्देश : प्रश्न संख्या 12 और 13 के लिए निम्नलिखित चित्र का ध्यानपूर्वक अध्ययन कीजिए व प्रश्नों के उत्तर दीजिए।



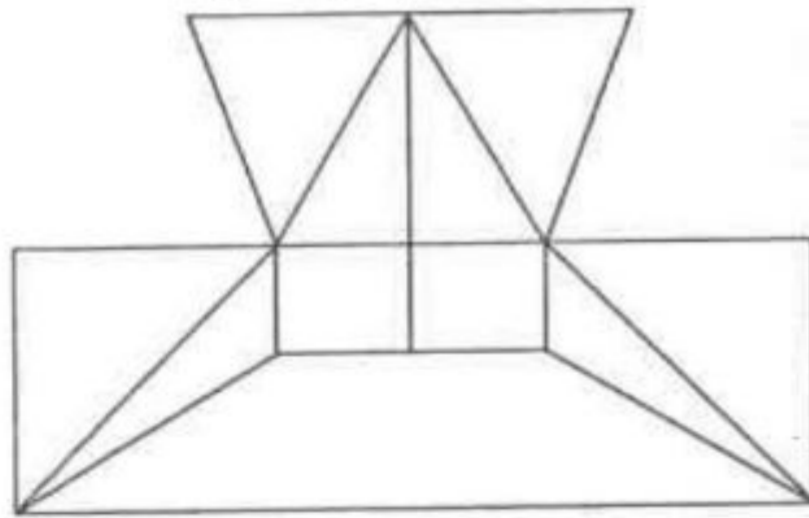
12. Which region denotes educated villagers who are not unemployed ?

- (A) D
- (B) E
- (C) G
- (D) F

13. Which region denotes educated unemployed villager ?

- (A) A
- (B) C
- (C) D
- (D) E

14. What is the minimum number of straight lines that is needed to construct the following figure ?



- (A) 16
- (B) 17
- (C) 18
- (D) 19

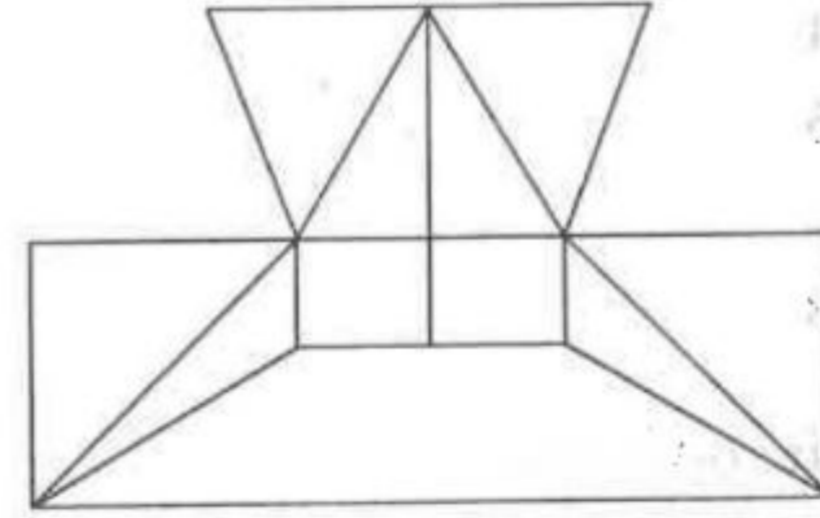
12. कौन सा क्षेत्र शिक्षित ग्रामीण जो बेरोजगार नहीं है को दर्शाता है ?

- (A) D
- (B) E
- (C) G
- (D) F

13. कौन सा क्षेत्र शिक्षित बेरोजगार ग्रामीण को दर्शाता है ?

- (A) A
- (B) C
- (C) D
- (D) E

14. निम्नांकित आकृति को बनाने में न्यूनतम कितनी संख्या में सीधी रेखा की आवश्यकता होगी ?



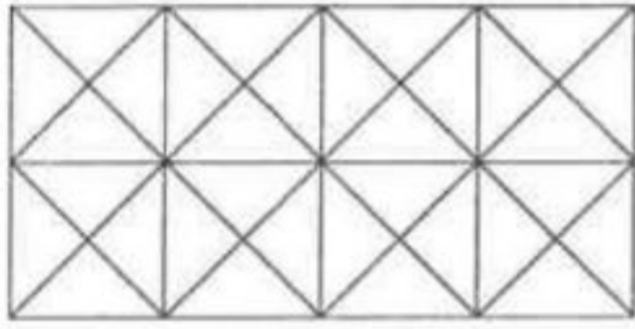
- (A) 16
- (B) 17
- (C) 18
- (D) 19

SPACE FOR ROUGH WORK / रफ कार्य के लिये जगह

15. In a certain code language, '312' means 'study very hard', '514' means 'hard work pays' and '357' means 'study and work'. Which is code for 'very' ?

- (A) 1
- (B) 4
- (C) 3
- (D) 2

16. Count the number of squares in the given figure :



- (A) 11
- (B) 21
- (C) 24
- (D) 26

17. Find the missing term :

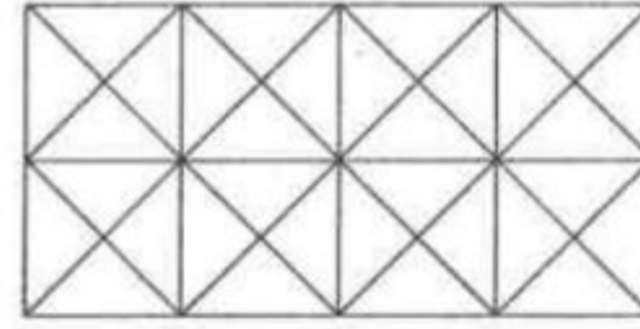
JR	14	7	CK
TX	22	17	OS
PV	?	?	KM

- (A) 12, 19
- (B) 19, 12
- (C) 24, 38
- (D) 38, 24

15. यदि किसी सांकेतिक भाषा में '312' का मतलब 'study very hard', '514' का मतलब 'hard work pays' और '357' का मतलब 'study and work' है। 'very' के लिए कौन सा कोड है?

- (A) 1
- (B) 4
- (C) 3
- (D) 2

16. दी गयी आकृति में वर्गों की संख्या की गणना कीजिए :



- (A) 11
- (B) 21
- (C) 24
- (D) 26

17. विलुप्त पद ज्ञात कीजिए।

JR	14	7	CK
TX	22	17	OS
PV	?	?	KM

- (A) 12, 19
- (B) 19, 12
- (C) 24, 38
- (D) 38, 24

SPACE FOR ROUGH WORK / रफ कार्य के लिये जगह

18. In certain code language, 'HOUSE' is written as 'MTFWI'. Which word would be coded as 'WATER' ?

- (A) AGEJW
- (B) AEGJW
- (C) AEJGW
- (D) EAGJW

19. Which letter will come into blank space ?

E	J	O
A	C	B
F	M	

- (A) K
- (B) R
- (C) P
- (D) Q

20. Find out which of the following answer figures completes the figure matrix ?

Answer Figures :

- (I)
- (II)
- (III)
- (IV)

- (A) (I)
- (B) (II)
- (C) (III)
- (D) (IV)

18. यदि किसी सांकेतिक भाषा में 'HOUSE' को 'MTFWI' लिखा जाता है। 'WATER' के लिए उसी कोड में कौन-सा शब्द होना चाहिए ?

- (A) AGEJW
- (B) AEGJW
- (C) AEJGW
- (D) EAGJW

19. खाली स्थान में कौन सा अक्षर आयेगा ?

E	J	O
A	C	B
F	M	

- (A) K
- (B) R
- (C) P
- (D) Q

20. कौन सा उत्तर चित्र, आकृति मैट्रिक्स को पूरा करता है, ज्ञात कीजिए ?

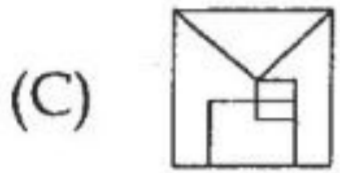
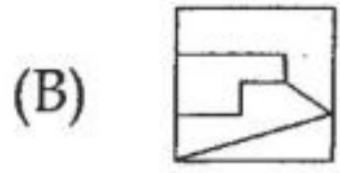
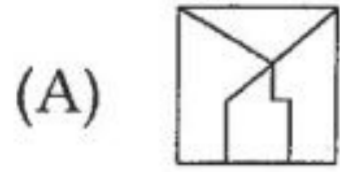
उत्तर चित्र :

- (I)
- (II)
- (III)
- (IV)

- (A) (I)
- (B) (II)
- (C) (III)
- (D) (IV)

SPACE FOR ROUGH WORK / रफ कार्य के लिये जगह

21. Find out the figure amongst the options which can be formed from the pieces given in the following figure :



22. In a certain code language, 'PRINT' is written as "GIIEB'. How would 'WATER' be written in that same code ?

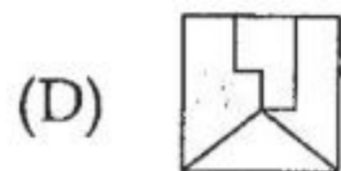
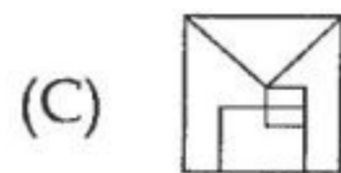
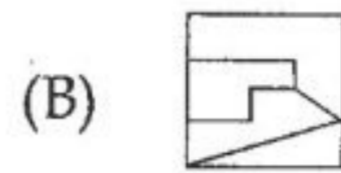
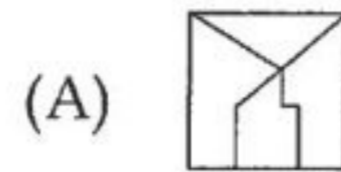
- (A) AEBEI
(B) EIAEB
(C) EABEI
(D) EAIBE

23. If + stands for \times , - for \div , \times for - and \div for +, then find the value of :

$$25 + 79 - 5 \times 4 \div 7$$

- (A) 400
(B) 399
(C) 398
(D) 397

21. दिये गये विकल्पों से वह चित्र चुनिये जो निम्न चित्रों में दिये गये टुकड़ों से बनाये जा सकते हैं :



22. यदि किसी सांकेतिक भाषा में 'PRINT' को "GIIEB' लिखा जाता है। तो उसी कोड में 'WATER' को कैसे लिखेंगे ?

- (A) AEBEI
(B) EIAEB
(C) EABEI
(D) EAIBE

23. यदि + का उपयोग \times के लिए, - का उपयोग \div के लिए, \times का उपयोग - के लिए और \div का उपयोग + के लिए हो, तो :

$$25 + 79 - 5 \times 4 \div 7$$

का मान ज्ञात कीजिए।

- (A) 400
(B) 399
(C) 398
(D) 397

SPACE FOR ROUGH WORK / रफ कार्य के लिये जगह

24. Find out the two signs to be interchanged for making following equation correct :

$$6 + 3 \times 8 - 24 \div 2 = 5$$

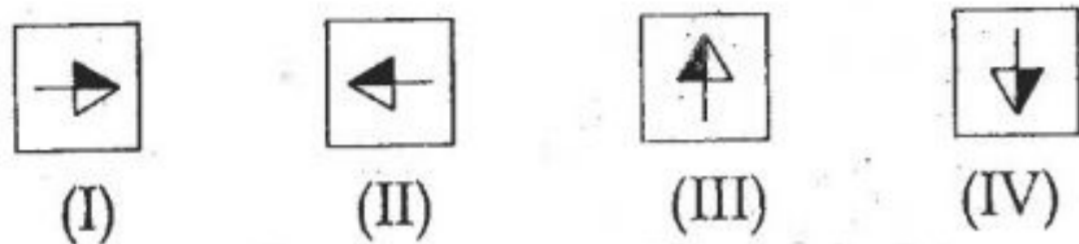
- (A) + and -
 (B) + and \times
 (C) + and \div
 (D) - and \div

24. किन दो चिन्हों को आपस में बदलने पर निम्नलिखित समीकरण सही होगा, ज्ञात कीजिए।

$$6 + 3 \times 8 - 24 \div 2 = 5$$

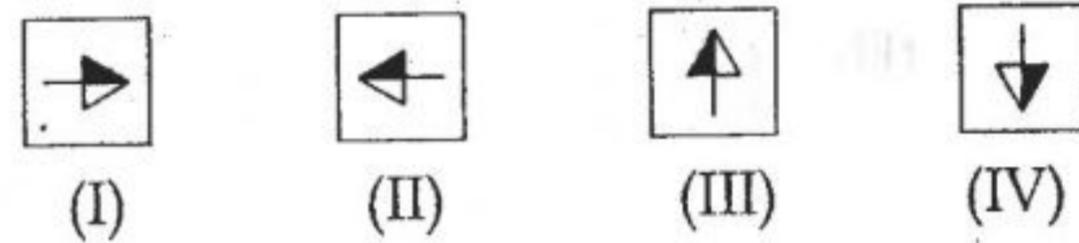
- (A) + और -
 (B) + और \times
 (C) + और \div
 (D) - और \div

25. Find the odd one out :



- (A) (I)
 (B) (II)
 (C) (III)
 (D) (IV)

25. भिन्न को ज्ञात कीजिए।



- (A) (I)
 (B) (II)
 (C) (III)
 (D) (IV)

26. If ABCD is a square, then which is not correct ?



- (A) $AE = DH$
 (B) EFGH is a rectangle
 (C) Area of square ABCD = $4 \Delta AEH$
 (D) $BF \parallel HD$

26. यदि ABCD एक वर्ग है, तब क्या सत्य नहीं है?



- (A) $AE = DH$
 (B) EFGH एक आयत है।
 (C) वर्ग ABCD का क्षेत्रफल = $4 \Delta AEH$
 (D) $BF \parallel HD$

SPACE FOR ROUGH WORK / रफ कार्य के लिये जगह

27. Which number will come into blank ?

	13	49
9	17	69
13	11	59

(A) 5

(B) 9

(C) 10

(D) 7

27. खाली स्थान में कौन सा अंक आयेगा ?

	13	49
9	17	69
13	11	59

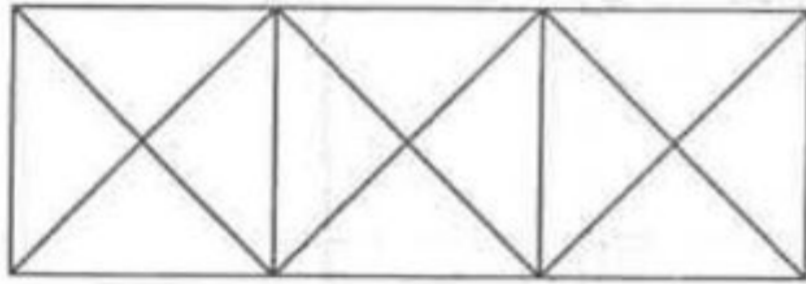
(A) 5

(B) 9

(C) 10

(D) 7

28. How many triangles are there in the following figure ?



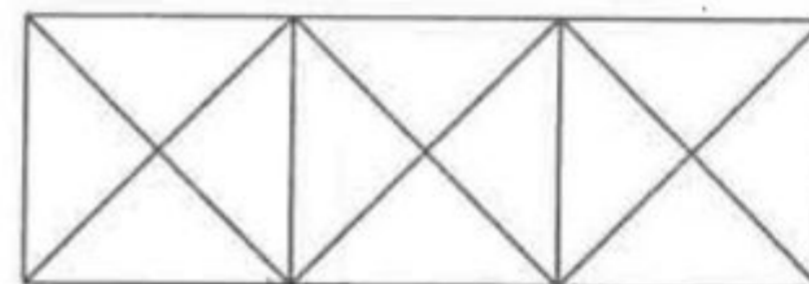
(A) 28

(B) 30

(C) 26

(D) 32

28. निम्नांकित आकृति में कितने त्रिभुज हैं ?



(A) 28

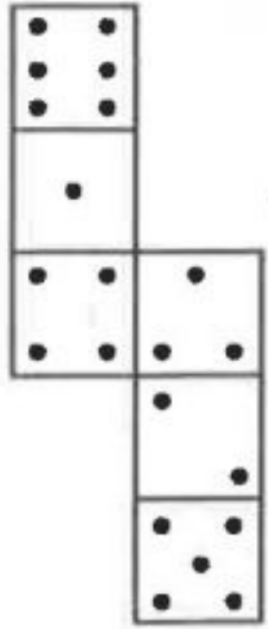
(B) 30

(C) 26

(D) 32

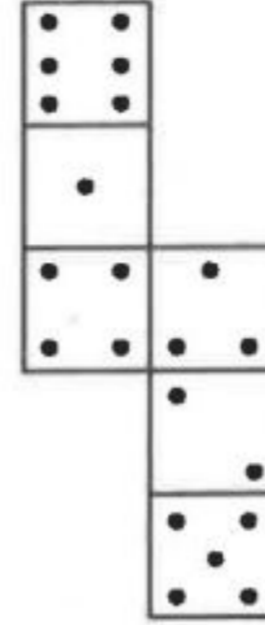
SPACE FOR ROUGH WORK / रफ कार्य के लिये जगह

29. How many dots lie opposite to the face having four dots, when the given figure is folded to form a cube ?



- (A) 2
- (B) 4
- (C) 5
- (D) 6

29. दिए गए चित्र को यदि मोड़कर एक घन बनाया जाय तो 4 बिन्दुओं वाले फलक के सामने कितने बिन्दु दिखायी देंगे ?



- (A) 2
- (B) 4
- (C) 5
- (D) 6

30. Find the missing term :

	C_{12}	B_{14}
D_{10}		A_{16}
	?	H_2
F_6		G_4

- (A) E_8
- (B) E_{10}
- (C) I_8
- (D) I_{10}

30. विलुप्त पद ज्ञात कीजिए।

	C_{12}	B_{14}
D_{10}		A_{16}
	?	H_2
F_6		G_4

- (A) E_8
- (B) E_{10}
- (C) I_8
- (D) I_{10}

SPACE FOR ROUGH WORK / रफ कार्य के लिये जगह

SECOND PART
General Knowledge

द्वितीय भाग
सामान्य ज्ञान

31. What percentage of Gross Domestic Product of India would be allocated for development of education ?
- (A) 6%
(B) 8%
(C) 10%
(D) 12%
32. Who of the following has founded the Arya Samaj ?
- (A) Swami Vivekanand
(B) Swami Shradhdhanand
(C) Swami Dayanand
(D) Swami Brahmanand
33. Which is the first biosphere reserve region of India ?
- (A) Nandadevi
(B) Sunderban
(C) Nilgiri
(D) Great Nicobar
34. Which one of the following is **not** a principle of Basic Education ?
- (A) Craft centred education
(B) Literacy
(C) Dignity of labour
(D) Teaching in mother tongue
31. शिक्षा के विकास के लिए सकल घरेलू उत्पाद का कितना प्रतिशत व्यय किया जाना चाहिए ?
- (A) 6%
(B) 8%
(C) 10%
(D) 12%
32. निम्नलिखित में से किसने आर्य समाज की स्थापना की ?
- (A) स्वामी विवेकानंद
(B) स्वामी श्रद्धानंद
(C) स्वामी दयानंद
(D) स्वामी ब्रह्मानंद
33. भारत का पहला जीवमंडल संरक्षित क्षेत्र कौन सा है ?
- (A) नंदादेवी
(B) सुंदरबन
(C) नीलगिरी
(D) ग्रेट निकोबार
34. निम्नलिखित में से कौन सा बुनियादी शिक्षा का सिद्धान्त नहीं है ?
- (A) शिल्प केन्द्रित शिक्षा
(B) साक्षरता
(C) श्रम का सम्मान
(D) मातृभाषा में शिक्षण

SPACE FOR ROUGH WORK / रफ कार्य के लिये जगह

35. Which one of the following is a incorrect pair ?

- (A) Mahatma Gandhi - Wardha Scheme
- (B) Maharishi Aurobindo - The Life Devine
- (C) Vivekanand - Gurukul
- (D) Ravindranath Tagore - Shantiniketan

36. Which state boundary of India touches three country ?

- (A) Jammu-Kashmir
- (B) Sikkim
- (C) Himachal Pradesh
- (D) Arunachal Pradesh

37. Main Tin producing state is :

- (A) Jharkhand
- (B) Chhattisgarh
- (C) Madhya Pradesh
- (D) Telangana

38. The tenure of Lok Sabha is counted :

- (A) From the date of notification of election.
- (B) From the date of polling.
- (C) From the date of declaration of result.
- (D) From the date of first session.

35. निम्नलिखित में से कौन सा जोड़ा सुमेलित नहीं है ?

- (A) महात्मा गाँधी - वर्धा योजना
- (B) महर्षि अरबिन्द - द लाइफ डिवाइन
- (C) विवेकानन्द - गुरुकुल
- (D) रवीन्द्रनाथ टैगोर - शांतिनिकेतन

36. भारत के किस राज्य की सीमा तीन देशों को स्पर्श करती है ?

- (A) जम्मू-कश्मीर
- (B) सिक्किम
- (C) हिमाचल प्रदेश
- (D) अरुणाचल प्रदेश

37. टिन उत्पादक प्रमुख राज्य है :

- (A) झारखण्ड
- (B) छत्तीसगढ़
- (C) मध्य प्रदेश
- (D) तेलंगाना

38. लोक सभा के कार्यकाल की गणना की जाती है :

- (A) निर्वाचन अधिसूचना की तिथि से
- (B) मतदान की तिथि से
- (C) परिणाम घोषणा की तिथि से
- (D) प्रथम अधिवेशन की तिथि से

SPACE FOR ROUGH WORK / रफ कार्य के लिये जगह

39. Which of the following statement is not related to the formative assessment ?
- (A) It is organised at the end of the academic session
- (B) It's purpose is to improve the students' achievement
- (C) It is a integral part of teaching learning process
- (D) It provides continuous feedback to both student and teacher
39. निम्नलिखित में से कौन सा कथन रचनात्मक आकलन से संबंधित नहीं है ?
- (A) यह एक शैक्षणिक सत्र के अन्त में आयोजित किया जाता है।
- (B) इसका उद्देश्य विद्यार्थियों की उपलब्धि का संवर्धन करना है।
- (C) यह सीखने-सिखाने की प्रक्रिया का अभिन्न अंग है।
- (D) यह विद्यार्थी और शिक्षक दोनों को निरन्तर प्रतिपुष्टि प्रदान करता है।
40. Due to a violent incident at which of the following place Mahatma Gandhi had withdrawn the Non-Cooperation Movement ?
- (A) Champaran
- (B) Purnea
- (C) Kheda
- (D) Chauri-Chaura
40. निम्नलिखित में से किस स्थान पर हुई हिंसक घटना के कारण महात्मा गाँधी ने असहयोग आंदोलन स्थगित कर दिया था ?
- (A) चम्पारण
- (B) पूर्णिया
- (C) खेड़ा
- (D) चौरी-चौरा
41. Who amongst the following invented the small pox vaccine ?
- (A) Edward Jenner
- (B) Robert Koch
- (C) Louis Pasteur
- (D) Robert Hooke
41. चेचक का टीका निम्न में से किसके द्वारा खोजा गया ?
- (A) एडवर्ड जेनर
- (B) राबर्ट कोच
- (C) लूइस पाश्चर
- (D) राबर्ट हूक
42. Which of the following city is largest in terms of population ?
- (A) Delhi
- (B) Kolkata
- (C) Mumbai
- (D) Chennai
42. जनसंख्या की दृष्टि से निम्न में से कौनसा शहर सबसे बड़ा है ?
- (A) दिल्ली
- (B) कोलकाता
- (C) मुंबई
- (D) चेन्नई

SPACE FOR ROUGH WORK / रफ कार्य के लिये जगह

43. In which of the following year the Indo-China War was fought ?

- (A) 1948
- (B) 1950
- (C) 1962
- (D) 1971

44. Who has estimated Gross National Income of a country on the basis of consumption ?

- (A) Marshall
- (B) Pigou
- (C) Fisher
- (D) Paul Samuelson

45. What is the GDP growth rate for India in 2018-19 at constant prices as per World Bank Report ?

- (A) 7.5 percent
- (B) 7.3 percent
- (C) 7.4 percent
- (D) 7.2 percent

46. What is correct about Rajya Sabha ?

- (a) It is a permanent house.
 - (b) It can't be dissolved.
 - (c) 1/3 members are retired on every two years.
 - (d) It's tenure is 6 years
- (A) (a)
 - (B) (a), (b)
 - (C) (a), (b), (c)
 - (D) (a), (b), (c), (d)

43. निम्नलिखित में से किस वर्ष भारत-चीन युद्ध लड़ा गया था ?

- (A) 1948
- (B) 1950
- (C) 1962
- (D) 1971

44. एक देश के सकल राष्ट्रीय आय की गणना उपभोग के आधार पर किसने की है ?

- (A) मार्शल
- (B) पीगू
- (C) फिशर
- (D) पॉल सेम्युल्सन

45. विश्व बैंक के प्रतिवेदन के अनुसार स्थिर कीमतों पर वर्ष 2018-19 में भारत के लिए सकल घरेलू उत्पाद की वृद्धि दर क्या है ?

- (A) 7.5 प्रतिशत
- (B) 7.3 प्रतिशत
- (C) 7.4 प्रतिशत
- (D) 7.2 प्रतिशत

46. राज्य सभा के विषय में सही क्या है ?

- (a) यह एक स्थायी सदन है।
 - (b) इसे विघटित नहीं किया जा सकता।
 - (c) 1/3 सदस्य प्रति दूसरे वर्ष सेवानिवृत्त हो जाते हैं।
 - (d) इसकी अवधि 6 वर्ष है।
- (A) (a)
 - (B) (a), (b)
 - (C) (a), (b), (c)
 - (D) (a), (b), (c), (d)

SPACE FOR ROUGH WORK / रफ कार्य के लिये जगह

47. Which of the following is invented by Charles Babbage ?
- (A) Microprocessor
(B) Computer
(C) Internet
(D) Camera

48. Match the following in the context of sources of the constitution :

List - I

- (a) Republic
(b) Emergency
(c) Constitutional Amendment
(d) Concurrent List

List - II

- (i) Weimar Republic
(ii) Australia
(iii) France
(iv) South Africa

- | | | | | |
|-----|-------|-------|------|-------|
| | (a) | (b) | (c) | (d) |
| (A) | (i) | (iii) | (ii) | (iv) |
| (B) | (ii) | (iv) | (i) | (iii) |
| (C) | (iii) | (i) | (iv) | (ii) |
| (D) | (iv) | (iii) | (ii) | (i) |

49. Which unemployment is very serious in India ?
- (A) Rural Unemployment
(B) Disguised Unemployment
(C) Educated Unemployment
(D) Technical Unemployment

50. Which of these is included in Hardware approach ?
- (A) Books
(B) Maps
(C) Graph
(D) Television

47. चार्ल्स बैबेज ने निम्न में से किसकी खोज की है ?
- (A) माइक्रोप्रोसेसर
(B) कम्प्यूटर
(C) इंटरनेट
(D) केमेरा

48. संविधान के स्रोत के संदर्भ में सुमेलित कीजिए :

सूची - I

- (a) गणतन्त्र
(b) आपात्काल
(c) संविधानिक संशोधन
(d) समवर्ती सूची

सूची - II

- (i) वाइमर गणराज्य
(ii) आस्ट्रेलिया
(iii) फ्रांस
(iv) दक्षिण अफ्रीका

- | | | | | |
|-----|-------|-------|------|-------|
| | (a) | (b) | (c) | (d) |
| (A) | (i) | (iii) | (ii) | (iv) |
| (B) | (ii) | (iv) | (i) | (iii) |
| (C) | (iii) | (i) | (iv) | (ii) |
| (D) | (iv) | (iii) | (ii) | (i) |

49. भारत में कौनसी बेरोजगारी गम्भीर समस्या है ?
- (A) ग्रामीण बेरोजगारी
(B) छद्म बेरोजगारी
(C) शिक्षित बेरोजगारी
(D) तकनीकी बेरोजगारी

50. इनमें से कौन हार्डवेयर के उपागम के अन्तर्गत आता है ?
- (A) पुस्तकें
(B) मानचित्र
(C) आरेख (ग्राफ)
(D) दूरदर्शन

SPACE FOR ROUGH WORK / रफ कार्य के लिये जगह

THIRD PART
Educational Interest

तृतीय भाग
शिक्षण अभिरूचि

51. Which among the following is **not** a function of NCERT ?

- (A) To prepare and publish study material for students and teachers
- (B) To launch, organise and strengthen research work in various aspects of education
- (C) Allow grants to the universities and colleges
- (D) Revamping of Elementary and Secondary Teacher Education Curriculum

52. Teacher's class-room behaviour should be good because :

- (A) It will set an example.
- (B) Students will be more attentive.
- (C) Environment would be conducive to learning.
- (D) Students will appreciate it.

53. Ancient Indian teachers applied some psychological principles in educating the young child. They recognized the role of :

- (A) Convent system of schooling.
- (B) Sense and perception in learning and teaching.
- (C) Gurukul type of schooling.
- (D) None of the above.

51. इनमें से क्या NCERT का कार्य नहीं है ?

- (A) शिक्षक और विद्यार्थियों के लिये पाठ्य सामग्री तैयार करना और उसका प्रकाशन करना
- (B) शिक्षा के विभिन्न पहलुओं में अनुसंधान कार्य का आरंभ, संगठन और सशक्तिकरण
- (C) विश्वविद्यालयों और महाविद्यालयों को अनुदान की स्वीकृति प्रदान करना
- (D) प्राथमिक और माध्यमिक शिक्षक शिक्षा पाठ्यक्रम में सुधार करना

52. शिक्षक का कक्षा में व्यवहार अच्छा होना चाहिये, क्योंकि :

- (A) यह छात्रों के लिये उदाहरण प्रस्तुत करता है।
- (B) छात्र अधिक ध्यान देंगे।
- (C) सीखने के लिये उचित वातावरण तैयार होगा।
- (D) छात्र इसकी प्रशंसा करेंगे।

53. प्राचीन भारतीय शिक्षक मनोवैज्ञानिक तथ्यों की सहायता से शिक्षण करते थे। उन्होंने किसका महत्व समझाया :

- (A) शिक्षण की कॉन्वेंट पद्धति
- (B) सीखने, सिखाने में संवेदना और प्रत्यक्षीकरण
- (C) गुरुकुल पद्धति
- (D) उपरोक्त में से कोई नहीं

SPACE FOR ROUGH WORK / रफ कार्य के लिये जगह

54. To start any work, continue and regularise is the process of :
- (A) Adjustment
(B) Motivation
(C) Thinking
(D) Attitude
55. As a teacher, which behaviour of a student will you consider as a serious matter ?
- (A) If a student asks too many questions.
(B) If he does not complete his home work.
(C) If he talks to the students while you are teaching.
(D) To be slow in studies.
56. In order to develop rapport with your pupils, you should :
- (A) behave with them in a democratic way.
(B) guide them.
(C) have communicative ability.
(D) all of the above.
57. You are interested in teaching profession because :
- (A) It holds less responsibility
(B) There is financial security
(C) It is a dedicated profession
(D) There are more number of holidays
54. किसी कार्य को आरम्भ करने, जारी रखने और नियमित बनाने की प्रक्रिया को कहते हैं :
- (A) समायोजन
(B) प्रेरणा
(C) चिन्तन
(D) अभिवृत्ति
55. एक शिक्षक के नाते, इनमें से किस व्यवहार को आप गंभीर मामला समझेंगे ?
- (A) यदि एक छात्र बहुत से प्रश्न करता है।
(B) यदि वह अपना गृह कार्य नहीं करता।
(C) यदि जब आप पढ़ा रहें हों, वह दूसरे छात्र से बातें करता है।
(D) पढ़ाई में सुस्त है।
56. विद्यार्थियों से सौहार्द स्थापित के लिये आपको करना चाहिये :
- (A) उनसे लोकतांत्रिक तरीके से व्यवहार किया जाये
(B) उन्हें मार्गदर्शन दिया जाना चाहिये
(C) संप्रेषण की योग्यता होनी चाहिये
(D) उपरोक्त सभी
57. आप शिक्षण व्यवसाय में रुचि रखते हैं क्योंकि :
- (A) इसमें कम जिम्मेदारी होती है।
(B) इसमें वित्तीय सुरक्षा है।
(C) यह एक समर्पित व्यवसाय है।
(D) इसमें छुट्टियों की संख्या अधिक होती है।

SPACE FOR ROUGH WORK / रफ कार्य के लिये जगह

58. Some students are considerably slow learners in your class. You will prefer to :

- (A) teach them separately.
- (B) allow them to learn with the general students.
- (C) demote them to lower class.
- (D) make arrangements for special learning programme.

59. The Chairman of the first education commission established by Indian Government after Independence was :

- (A) Dr. Radhakrishnan
- (B) Dr. Zakir Hussain
- (C) Dr. D.S. Kothari
- (D) Dr. Mudaliar

60. Some students do not show any signs of understanding under such circumstances. I would rather not :

- (A) waste any time on them.
- (B) feel motivated to teach them.
- (C) feel impatient but try to simplify.
- (D) scold them.

61. A teacher can guide students very much effectively, because :

- (A) Students obey teacher's orders
- (B) He is the boss of the students
- (C) Students fear him
- (D) He understands students' psychology

58. आपकी कक्षा में कुछ छात्र विशेष रूप से मंदग्राही हैं। आप करना पसंद करेंगे :

- (A) उन्हें अलग से पढ़ाएँगे
- (B) उन्हें सामान्य छात्रों के साथ अधिगम की अनुमति देंगे
- (C) उन्हें निचली कक्षा में अवनत करेंगे
- (D) विशेष अधिगम कार्यक्रम की व्यवस्था करेंगे

59. स्वतंत्रता के बाद भारत सरकार द्वारा स्थापित किए जाने वाले पहले शिक्षा आयोग के अध्यक्ष थे :

- (A) डॉ. राधाकृष्णन
- (B) डॉ. जाकिर हुसैन
- (C) डॉ. डी.एस. कोठारी
- (D) डॉ. मुदालियर

60. कुछ छात्र ऐसे कोई लक्षण नहीं दिखाते, जिससे ये पता चले कि वे समझ रहे हैं। ऐसे में आप क्या नहीं करेंगे ?

- (A) उनपर और वक्त बरबाद करना
- (B) उन्हें पढ़ाने के लिये और अभिप्रेरित होना
- (C) अधीर होना पर तथ्यों को सरलीकृत करना
- (D) उन्हें कोसना

61. एक शिक्षक छात्रों का कुशल मार्गदर्शन कर सकता है, क्योंकि :

- (A) छात्र शिक्षक की आज्ञा मानते हैं।
- (B) छात्रों का वह बाँस होता है।
- (C) छात्र उससे डरते हैं।
- (D) वह छात्रों का मनोविज्ञान समझता है।

SPACE FOR ROUGH WORK / रफ कार्य के लिये जगह

62. A teacher is considered effective teacher when he/she :

- (A) follows specific methodologies
- (B) selects variety of learning experiences
- (C) has an impressive personality
- (D) maintains a high level of pass percentage of students in the examination

63. The intelligence of an individual can be rightly defined as :

- (A) A quality of his learned behaviour
- (B) A potential fixed quality of the genes
- (C) A natural gift which is inherent in a person
- (D) A constant and unmodifiable quality of behaviour

64. To educate "according to nature" means :

- (A) to return to the natural ways of life.
- (B) to provide education according to the natural laws of human development.
- (C) to study natural law's and apply them to educational process.
- (D) None of the above.

62. एक शिक्षक को प्रभावशाली शिक्षक माना जाता है जब वह :

- (A) विशिष्ट विधियों का उपयोग करें
- (B) विविध प्रकार के अधिगम अनुभवों का चयन करें
- (C) एक प्रभावशाली व्यक्तित्व रखता हो
- (D) परीक्षा में छात्रों का पास-प्रतिशत ऊँचा बनाए रखे

63. एक व्यक्ति की बुद्धिमत्ता की उपयुक्त परिभाषा है :

- (A) उसके सीखे गए व्यवहार की गुणवत्ता
- (B) जीन की निर्धारित गुणवत्ता
- (C) एक प्रकृति प्रदत्त व्यवहार जो व्यक्ति में निहित हो
- (D) एक स्थिर और अपरिवर्तनीय व्यवहार की गुणवत्ता

64. "प्रकृति के अनुरूप" शिक्षित करने का अर्थ है :

- (A) जीवन के प्राकृतिक तरीकों की ओर लौटना
- (B) मानव विकास के प्राकृतिक नियमों के अनुरूप शिक्षा प्रदान करना
- (C) प्राकृतिक नियमों का अध्ययन करना और उनका शैक्षिक प्रक्रिया में प्रयोग करना
- (D) उपरोक्त में से कोई नहीं

SPACE FOR ROUGH WORK / रफ कार्य के लिये जगह

65. You have a class which is very heterogeneous in height. You should allow a seating arrangement :

- (A) Which is random
- (B) Where smaller students are allowed to sit in such a way that they can see easily
- (C) The class activities which is purely based on heights
- (D) That has taller students on one side

66. The responsibility of allround development of a child is on :

- (A) The teacher
- (B) Child himself
- (C) Society
- (D) Both teacher and parents

67. How should a teacher behave with the students ?

- (A) Father like
- (B) Friend like
- (C) General
- (D) Elder like

68. Person responsible for administration in a school is :

- (A) Principal
- (B) Director of Education
- (C) Education Officer
- (D) None of these

65. आपके पास एक कक्षा है, जिसमें छात्रों का कद विषम है। आप कैसी बैठक व्यवस्था करेंगे ?

- (A) अनिश्चित
- (B) छोटे कद के छात्रों को ऐसे बैठाएंगे, जहाँ से वे कक्षा की गतिविधियों को देख सकें
- (C) शुद्ध रूप से कद के अनुसार
- (D) लंबे छात्रों को एक तरफ बैठाएंगे।

66. बालक के सर्वांगीण विकास का उत्तरदायित्व होता है :

- (A) शिक्षक पर
- (B) स्वयं बालक पर
- (C) समाज पर
- (D) शिक्षक और माता-पिता दोनों पर

67. शिक्षक को छात्रों से कैसा व्यवहार करना चाहिये ?

- (A) पिता की तरह
- (B) मित्र की तरह
- (C) सामान्य
- (D) बड़ों की तरह

68. विद्यालय में प्रशासन के लिए जिम्मेदार व्यक्ति है :

- (A) प्राचार्य
- (B) शिक्षा के निदेशक
- (C) शिक्षा अधिकारी
- (D) इनमें से कोई नहीं

SPACE FOR ROUGH WORK / रफ कार्य के लिये जगह

69. If a teacher is unable to answer pupil's question, he should :

- (A) say that he will answer after consultation.
- (B) say that the question is wrong
- (C) rebuke the pupil
- (D) feel shy of his ignorance

70. The principle behind the celebration of religious festivals in school is to :

- (A) create awareness about different religion
- (B) invoke the feeling of cultural unity
- (C) bring social harmony
- (D) all of the above

71. A child in school will be called a problem child when :

- (A) He is able to solve problems of other children.
- (B) He is very resourceful in suggesting good problems for the class.
- (C) He behaves such that it becomes a problem for the teacher to understand him.
- (D) None of the above.

69. एक शिक्षक छात्र के प्रश्न का उत्तर देने में असमर्थ है। उन्हें चाहिये कि वे :

- (A) कहें कि वे परामर्श के उपरांत उत्तर बताएंगे
- (B) कहें कि प्रश्न गलत है
- (C) विद्यार्थी को फटकारें
- (D) अपने अज्ञान के लिए शर्मिन्दा हों

70. विद्यालय में धार्मिक त्यौहारों को मनाने के पीछे सिद्धांत है :

- (A) विभिन्न धर्मों के प्रति जागरूकता लाना
- (B) सांस्कृतिक एकता की भावना का विकास करना
- (C) सामाजिक सद्भाव लाना
- (D) उपरोक्त सभी

71. विद्यालय में एक बालक को समस्यात्मक बालक कहा जायेगा जब :

- (A) वह दूसरे बच्चों की समस्याओं को हल करने में सक्षम हो
- (B) वह कक्षा के लिए उत्तम समस्याओं के सुझाव देने में साधन संपन्न हो
- (C) ऐसा व्यवहार करे कि उसे समझना शिक्षक के लिए एक समस्या हो
- (D) उपरोक्त में से कोई नहीं

SPACE FOR ROUGH WORK / रफ कार्य के लिये जगह

72. Sameer is a shy student. What should be teacher's most appropriate behaviour towards him ?

- (A) Make him the leader of one of the group in a classroom activity
- (B) Gives individual attention and often talks to him
- (C) Asks about his behaviour in a particular situation
- (D) Ignores him

73. The aim of education is to :

- (A) Prepare the students for job
- (B) Ensure allround development of personality
- (C) Help the students to pass the examination.
- (D) Develop the ability of social interaction.

74. Self confidence in a teacher is needed while he is :

- (A) Talking to public
- (B) Going on the way
- (C) Teaching in his class
- (D) Talking to his parents

75. Children learn best when :

- (A) they are engaged in lecture method
- (B) teacher is knowledgeable
- (C) students are motivated and involved
- (D) teacher teaches well

72. समीर एक शर्मीला छात्र है। शिक्षक का उसके प्रति सर्वथा उपयुक्त व्यवहार क्या होना चाहिए ?

- (A) उसे कक्षा कक्ष गतिविधि में किसी एक समूह का प्रतिनिधि बनाता है।
- (B) उसे व्यक्तिगत रूप से ध्यान में रखता है और अक्सर उससे बातें करता है।
- (C) किसी विशेष परिस्थिति में उसके व्यवहार से संबंधित प्रश्न पूछता है।
- (D) उसे नज़रअंदाज करता है।

73. शिक्षा का उद्देश्य है :

- (A) विद्यार्थियों को नौकरी करने के योग्य बनाना
- (B) व्यक्तित्व के सर्वांगीण विकास को सुनिश्चित करना
- (C) परीक्षा में विद्यार्थियों को सफल होने में सहायता प्रदान करना
- (D) सामाजिक अंतःक्रिया करने की क्षमता का विकास करना

74. शिक्षक में आत्मविश्वास की आवश्यकता है जब वह :

- (A) जनसमूह से बातचीत करें
- (B) रास्ते पर चल रहा हो
- (C) अपनी कक्षा में अध्यापन कर रहा हो
- (D) अपने माता-पिता से बातचीत करें

75. बच्चे सर्वोत्तम सीखते हैं जब :

- (A) उन्हें व्याख्यान विधि द्वारा संलग्न रखा जाये
- (B) शिक्षक जानकार हो
- (C) छात्र अभिप्रेरित और प्रवृत्त हो
- (D) शिक्षक अच्छा पढ़ाएँ

SPACE FOR ROUGH WORK / रफ कार्य के लिये जगह

76. The three language formula at the lower secondary stage of classes VIII to X recommended by the Indian Education Commission (1964-66) was as follows :

- (A) Mother Tongue + Regional Language + English
- (B) Mother Tongue or Regional Language + Hindi + English
- (C) Mother Tongue or Hindi + English + a Regional Language
- (D) Mother Tongue + Hindi + a Regional Language

77. The major responsibility with which school personnel have been entrusted is that of :

- (A) Adjusting social demands to the needs of the child.
- (B) Adjusting the child to conform to the demands of society.
- (C) Changing human nature to conform to the social expectations.
- (D) Preparing the child to change the society.

76. भारतीय शिक्षा आयोग (1964-66) की सिफारिश द्वारा कक्षा VIII से X तक के निम्न माध्यमिक स्तर के लिए तीन भाषा सूत्र है :

- (A) मातृभाषा + क्षेत्रीय भाषा + अंग्रेजी
- (B) मातृभाषा या क्षेत्रीय भाषा + हिन्दी + अंग्रेजी
- (C) मातृभाषा या हिन्दी + अंग्रेजी + एक क्षेत्रीय भाषा
- (D) मातृभाषा + हिन्दी + एक क्षेत्रीय भाषा

77. शाला प्रबंधन से जुड़े लोगों की सबसे बड़ी जिम्मेदारी यह है कि :

- (A) सामाजिक माँगों का सामंजस्य छात्रों की आवश्यकता से करें।
- (B) छात्र का सामंजस्य समाज की माँगों के अनुसार करें।
- (C) मानव व्यवहार को सामाजिक अपेक्षाओं के अनुरूप बदलना।
- (D) छात्र को समाज में परिवर्तन लाने हेतु तैयार करना।

SPACE FOR ROUGH WORK / रफ कार्य के लिये जगह

78. What is **not** applicable to National Mid Day Meal Programme ?

- (A) It has been operational since 2000-2001
- (B) It is aimed to the goal of universalization of Elementary Education
- (C) It helps to accomplish the objectives of Education for sustainable development
- (D) It addresses the issue of malnutrition among children

79. A teacher involves the students in the cleanliness activity in the school. This is an indicative of :

- (A) Value development activity
- (B) Community based activity
- (C) Social awareness activity
- (D) Environmental awareness activity

80. If you are planning to write a book for middle school children, which of the following should be your main consideration :

- (A) It should contain lots of coloured pictures.
- (B) It should provide the latest material on the subject.
- (C) It should logically cover the entire field of the subject.
- (D) It should be with glossy pages and fine binding.

78. क्या राष्ट्रीय मध्याह्न भोजन कार्यक्रम के संबंध में **नहीं** है ?

- (A) यह वर्ष 2000-2001 से परिचालित हो रहा है।
- (B) यह प्राथमिक शिक्षा के सार्वभौमिकरण के लक्ष्यों पर केंद्रित है।
- (C) यह सतत विकास के लिए शिक्षा के उद्देश्यों को प्राप्त करने में सहायक है।
- (D) यह बालकों में कुपोषण की समस्या के हल के संबंध में है।

79. विद्यालय में एक शिक्षक छात्रों/छात्राओं को स्वच्छता कार्यों में शामिल करता है। यह सूचक है :

- (A) मूल्य विकास की गतिविधि
- (B) समुदाय आधारित गतिविधि
- (C) सामाजिक जागरूकता गतिविधि
- (D) पर्यावरण जागरूकता गतिविधि

80. यदि आप माध्यमिक विद्यालय के विद्यार्थियों के लिए एक पुस्तक लिखने की तैयारी कर रहे हैं, इस दिशा में आपके मुख्य विचार हैं :

- (A) इसमें बहुत से रंगीन चित्र होने चाहिए।
- (B) यह विषय पर नवीनतम सामग्री प्रदान करता है।
- (C) यह तार्किक रूप से संपूर्ण विषय को सम्मिलित करता हो।
- (D) इसमें चिकने पन्ने और उत्तम जिल्द हो।

SPACE FOR ROUGH WORK / रफ कार्य के लिये जगह

FOURTH PART/चतुर्थ भाग
सामान्य हिन्दी

81. यदि 'आ' के आगे 'ऋ' रहे तो दोनों के मेल से 'अर' हो जाता है। संधि के अंतर्गत इस विकार को क्या कहते हैं?

- (A) दीर्घ स्वर संधि
(B) गुण स्वर संधि
(C) वृद्धि स्वर संधि
(D) यण स्वर संधि

82. निम्नलिखित शब्द-युग्मों में कौन सा युग्म पर्यायवाची शब्दों का सही मेल है?

- (A) चाँदी - मोषक
(B) कुंभिल - जातरूप
(C) कृपा - असृत
(D) ऊँट - क्रमेलक

83. निम्नांकित में मुहावरा नहीं है :

- (A) काँटे बिछाना
(B) गले मढ़ना
(C) आँधी के आम
(D) उपर्युक्त तीनों

84. निम्नांकित वाक्यों में अशुद्ध वाक्य कौन सा है?

- (A) एक बालक, पाँच पुरुष और सात बालिकाएँ रामायण पढ़ रहे हैं।
(B) जुलाहा, कुम्हार, बनिया, सँपेरा और धोबिन गाँव को जा रहे हैं।
(C) साधु-सन्यासी, तपस्वी, ब्रह्मचारी, वानप्रस्थी, भीड़ की भीड़ यज्ञमंडप की ओर जा रही थी।
(D) उपर्युक्त तीनों वाक्य अशुद्ध हैं।

85. निम्नांकित में किस मुहावरे में अनुपयुक्त शब्द का प्रयोग किया गया है?

- (A) अपनी रोटी अलग पकाना
(B) अंधे का डंडा
(C) जले पर मिर्च छिड़कना
(D) उपर्युक्त तीनों में

86. “(अ) प्रकरणांतर एवं (ब) दुःसमता लेखन कला के दोष हैं।” इस कथन में :

- (A) (अ) सही (ब) सही है।
(B) (अ) सही (ब) गलत है।
(C) (अ) गलत (ब) सही है।
(D) (अ) गलत (ब) गलत है।

87. 'कवि', 'चकमक', 'तेंदुआ', 'बच्चा' के लिए शब्द-प्रकार अंतर्गत निम्नांकित में कौन सा विकल्प उपर्युक्त शब्द क्रमानुसार सही है?

- (A) तत्सम, विदेशी, देशज, तद्भव
(B) तत्सम, देशज, विदेशी, तद्भव
(C) तत्सम, तद्भव, देशज, विदेशी
(D) तत्सम, विदेशी, तद्भव, देशज

SPACE FOR ROUGH WORK / रफ़ कार्य के लिये जगह

FIFTH PART/पंचम भाग
General English

88. "मनुष्य आँखों से देखते हैं, कानों से सुनते हैं और बुद्धि से विचार करते हैं।" इस वाक्य में प्रयुक्त 'से' विभक्तियाँ क्रमशः किन कारकों का प्रतिनिधित्व करती हैं?

- (A) करण, अपादान, अपादान
(B) अपादान, करण, करण
(C) करण, करण, करण
(D) अपादान, अपादान, अपादान

89. नीचे दिए गए वाक्यों में संयुक्त वाक्य कौन सा है?

- (A) पेड़ के जीवन का आधार केवल पानी ही नहीं है, वरन् कई और पदार्थ भी हैं।
(B) जो मनुष्य धनवान होता है, उसे सभी चाहते हैं।
(C) मैं जिस दुकान में गया था, उसमें पुस्तक नहीं मिली।
(D) काम सीखा हुआ नौकर कठिनाई से मिलता है।

90. "तुलसीदास - हिंदी के महाकवि - को कौन नहीं जानता", इस कथन में 'तुलसीदास' तथा 'महाकवि' शब्द के बाद किस विराम चिन्ह का प्रयोग हुआ है?

- (A) अपूर्ण सूचक चिन्ह
(B) लाघव चिन्ह
(C) संयोजक चिन्ह
(D) निर्देशक चिन्ह

91. 'Are you supposing I'm going to take you out ?

In the above sentence the underlined words 'supposing' and 'going' are used as :

- (A) gerund and continuous tense form.
(B) continuous tense form and gerund
(C) both are used as continuous tense form.
(D) both are used as gerunds.

92. Choose the incorrect synonym for 'sure' :

- (A) Confident
(B) Convinced
(C) Positive
(D) Surreal

93. 'You'd rather go.....'

Choose the correct question tag for the above sentence.

- (A) would you ?
(B) wouldn't you ?
(C) hadn't you ?
(D) had you ?

SPACE FOR ROUGH WORK / रफ कार्य के लिये जगह

94. The one word substitution for 'to give somebody the wrong idea or impression and make them believe something that is not true' is :

- (i) mislead
- (ii) deceive

Choose the most appropriate answer :

- (A) Only (i) is correct
- (B) Only (ii) is correct
- (C) Both (i) and (ii) are correct
- (D) None of the above is correct

Read the following passage and answer question number 95, 96 and 97.

The four elements of sportsmanship are often shown being good form, the will to win, equity and fairness. All four elements are critical and a balance must be found among all four for true sportsmanship to be illustrated. These elements may also cause conflict as a person may desire to win more than play in equity and fairness and thus resulting in a clash within the aspects of sportsmanship. This will cause problems as the person believe they are being a good sportsman but they are defeating the purpose of this idea as they are ignoring two key components of being sportsman like. When athletes become too self-centred, the idea of sportsmanship is dismissed.

Today's sporting culture, in particular the base of elite sport, places great importance on the idea of competition and winning and thus sportsmanship takes a back seat as a result. In most, if not all sports, sportsman at the elite level make the standards on sportsmanship and no matter whether they like it or not, they are seen as leaders and role models in society.

95. Is it necessary to strike a balance between all the four elements of sportsmanship ?
(Choose the most appropriate answer)

- (A) No
- (B) Yes
- (C) Any two can be balanced
- (D) Only one is sufficient

96. When does the spirit of sportsmanship die ?

(Choose the most appropriate answer)

- (A) When the sportsman becomes too self centred.
- (B) When the player loses the will to play.
- (C) When the sportsman behaves badly.
- (D) None of the above.

97. Why has sportsmanship taken a back seat today ?

(Choose the most appropriate answer)

- (A) Due to lack of balance between the elements.
- (B) Due to drug abuse.
- (C) Due to the emphasis on winning.
- (D) None of the above.

Directions : (Questions 98-100)

In each question there is a passage of six sentences the first and the sixth are given in the beginning. The middle four sentences in each have been jumbled up and labelled PQRS. Find out the proper order for the four sentences.

(Choose the most appropriate logical order)

SPACE FOR ROUGH WORK / रफ कार्य के लिये जगह

98. S1 : I usually sleep quite well in train, but this time I slept only a little.

S6 : It was shut all night, as usual.

P : Most people wanted it shut and I wanted it open.

Q : As usual, I got angry about the window.

R : The quarrel left me completely upset.

S : There were too many people too much huge luggage all around.

Choose the most appropriate answer :

- (A) RSQP
- (B) SQPR
- (C) SQRP
- (D) RSPQ

99. S1 : Once king Shantanu met a young and beautiful fisher girl.

S6 : Devavrata, the king's son, asked him the reason of his sadness.

P : He went to the fisherman and asked him for her hand in marriage.

Q : The king was extremely sad and returned to his palace.

R : He fell in love with fisher girl.

S : The fisherman agreed to it on condition that the son of his daughter should be heir to the throne of Hastinapur.

Choose the most appropriate answer :

- (A) PQRS
- (B) PSQR
- (C) QSPR
- (D) RPSQ

100. S1 : The heart is pump of life.

S6 : All this was made possible by the invention of heart lung machine.

P : They have even succeeded in heart transplants.

Q : Nowadays surgeon's are able to stop a patient's heart and carryout complicated operations.

R : A few years ago it was impossible to operate on a patient whose heart was not working properly.

S : If heart stops we die in about five minutes.

Choose the most appropriate answer :

- (A) SRQP
- (B) SPRQ
- (C) SQPR
- (D) SRPQ

- o o o -

SPACE FOR ROUGH WORK / रफ कार्य के लिये जगह

उत्तर अंकित करने का समय : 2 घंटे
Time for marking answers : 2 Hours

अधिकतम अंक : 100
Maximum Marks : 100

नोट :

1. इस प्रश्न-पुस्तिका में पाँच भाग होंगे :

- | | |
|--|----------|
| (i) प्रथम भाग : सामान्य मानसिक योग्यता | - 30 अंक |
| (ii) द्वितीय भाग : सामान्य ज्ञान | - 20 अंक |
| (iii) तृतीय भाग : शिक्षण अभिरूचि | - 30 अंक |
| (iv) चतुर्थ भाग : सामान्य हिन्दी | - 10 अंक |
| (v) पंचम भाग : सामान्य अंग्रेजी | - 10 अंक |

प्रत्येक प्रश्न 1 अंक का है। सभी प्रश्न हल करना अनिवार्य है।

2. प्रश्नों के उत्तर, दी गई OMR उत्तर-शीट (आंसर शीट) पर अंकित कीजिए।

3. ऋणात्मक मूल्यांकन नहीं किया जायेगा।

4. किसी भी तरह के कैलकुलेटर या लॉग टेबल एवं मोबाइल फोन का प्रयोग वर्जित है।

5. OMR उत्तर-शीट (आंसर शीट) का प्रयोग करते समय ऐसी कोई असावधानी न करें/बरतें जिससे यह फट जाये या उसमें मोड़ या सिलवट आदि पड़े जाये जिसके फलस्वरूप वह खराब हो जाये।

Note :

1. This Question Booklet consists of Five Parts :

- | | |
|---|------------|
| (i) First Part : General Mental Eligibility | - 30 Marks |
| (ii) Second Part : General Knowledge | - 20 Marks |
| (iii) Third Part : Educational Interest | - 30 Marks |
| (iv) Fourth Part : General Hindi | - 10 Marks |
| (v) Fifth Part : General English | - 10 Marks |

Each question contains 1 mark. All questions are compulsory.

2. Indicate your answers on the OMR Answer-Sheet provided.

3. No negative marking will be done.

4. Use of any type of calculator or log table and mobile phone is prohibited.

5. While using OMR Answer-Sheet care should be taken so that the OMR Answer-Sheet does not get torn or spoiled due to folds and wrinkles.

PRe DLEd EXAM (BDED) - 2019 (MODEL ANSWER)

Sub. Code - 9120/TF-DT/PP-E (EVENING SHIFT)

SET-A

Qu.	Ans.	Qu.	Ans.	Qu.	Ans.	Qu.	Ans.	Qu.	Ans.	Qu.	Ans.	Qu.	Ans.	Qu.	Ans.	Qu.	Ans.	Qu.	Ans.
1	D	11	D	21	B	31	A	41	A	51	C	61	D	71	C	81	B	91	C
2	A	12	D	22	C	32	C	42	C	52	C	62	B	72	B	82	D	92	D
3	A	13	C	23	C	33	C	43	C	53	C	63	D	73	B	83	C	93	B
4	D	14	B	24	D	34	B	44	C	54	D	64	B	74	C	84	A	94	C
5	C	15	D	25	B	35	C	45	D	55	C	65	B	75	C	85	D	95	B
6	B	16	C	26	C	36	D	46	C	56	D	66	D	76	B	86	A	96	A
7	D	17	B	27	A	37	B	47	B	57	C	67	B	77	D	87	A	97	C
8	B	18	B	28	A	38	D	48	C	58	D	68	A	78	A	88	C	98	B
9	C	19	D	29	D	39	A	49	D	59	A	69	A	79	D	89	A	99	D
10	D	20	C	30	A	40	D	50	D	60	D	70	D	80	C	90	D	100	A

1. अभ्यर्थी वेबसाइट में प्रदर्शित उत्तरों पर सप्रमाण दावा/आपत्ति 2.6.06.2019 को संख्या 5.00 बजे तक नीचे दिये गये प्रारूप में व्यापम में स्वयं उपस्थित होकर, डाक द्वारा या व्यापम के ई-मेल आई डी cgvyapam.preexam.dawaapatti19@gmail.com पर भेजे जा सकते हैं। नियत दिनांक एवं समय के पश्चात् प्राप्त दावा/आपत्ति स्वीकार नहीं किया जावेगा। बिना प्रमाण का दावा/आपत्ति को पूर्णतः अमान्य किया जावेगा। नीचे दिए गए प्रपत्र में, प्रत्येक प्रश्न के लिए अलग सा पृष्ठ का प्रयोग करते हुए दावा/आपत्ति प्रस्तुत न होने पर भी उसे पूर्णतः अमान्य किया जावेगा। एक पृष्ठ में एक से अधिक प्रश्नों पर दावा/आपत्ति प्रस्तुत करने पर उन पर विचार नहीं किया जावेगा।

दावाकर्ता का रोल नंबर	नाम	परीक्षा का नाम एवं प्रश्न पत्र सेट	प्रश्न क्रमांक एवं विषय	मॉडल आंसर में दिया गया उत्तर	दावाकर्ता का उत्तर	दावाकर्ता का द्वारा अपने उत्तर के लिए स्पष्ट एवं पूर्ण कारण	अपने दावा के सम्बन्ध में प्रस्तुत प्रमाण के पृष्ठों की संख्या
-----------------------	-----	------------------------------------	-------------------------	------------------------------	--------------------	---	---

3. प्राप्त दावा/आपत्ति के परीक्षण पश्चात् विषय विशेषज्ञों द्वारा अंतिम निर्णय लिया जावेगा।
4. दावा/आपत्ति के सम्बन्ध में विषय विशेषज्ञों का निर्णय ही मान्य किया जावेगा।

P.C.
21/06/2019
ADVISOR, C.G. VYAPAM, RAIPUR

Advisor
C.G Professional Examination Board
Atal Nagar, Distt-Raipur (C.G)

PRe DLEd EXAM (BDED) - 2019 (MODEL ANSWER)

Sub. Code - 9120/TF-DT/PP-E (EVENING SHIFT)


SET-B

Qu.	Ans.	Qu.	Ans.	Qu.	Ans.	Qu.	Ans.	Qu.	Ans.	Qu.	Ans.	Qu.	Ans.	Qu.	Ans.	Qu.	Ans.	Qu.	Ans.
1	A	11	B	21	B	31	D	41	A	51	D	61	C	71	D	81	C	91	B
2	A	12	D	22	C	32	C	42	C	52	B	62	A	72	B	82	A	92	C
3	D	13	C	23	B	33	D	43	D	53	D	63	C	73	C	83	B	93	C
4	B	14	C	24	D	34	D	44	C	54	B	64	A	74	D	84	A	94	D
5	D	15	A	25	D	35	C	45	D	55	B	65	B	75	C	85	C	95	B
6	D	16	C	26	D	36	B	46	C	56	B	66	C	76	C	86	A	96	A
7	C	17	D	27	B	37	B	47	C	57	C	67	D	77	C	87	A	97	C
8	D	18	C	28	A	38	A	48	C	58	A	68	A	78	D	88	D	98	A
9	C	19	A	29	B	39	D	49	A	59	D	69	D	79	C	89	D	99	B
10	D	20	B	30	C	40	B	50	C	60	D	70	D	80	B	90	D	100	D

1. अभ्यर्थी वेबसाइट में प्रदर्शित उत्तरों पर सप्रमाण दावा/आपत्ति 26.06.2019 को संध्या 5.00 बजे तक नीचे दिये गये प्रारूप में व्यापम में स्वयं उपस्थित होकर, डाक द्वारा या व्यापम के ई-मेल आई डी cgvyapam.preexam.dawaapatti19@gmail.com पर भेजे जा सकते हैं। नियत दिनांक एवं समय के पश्चात् प्राप्त दावा/आपत्ति स्वीकार नहीं किया जावेगा। बिना प्रमाण का दावा/आपत्ति को पूर्णतः अमान्य किया जावेगा। नीचे दिए गए प्रपत्र में, प्रत्येक प्रश्न के लिए अलग सा पृष्ठ का प्रयोग करते हुए दावा/आपत्ति प्रस्तुत न होने पर भी उसे पूर्णतः अमान्य किया जावेगा। एक पृष्ठ में एक से अधिक प्रश्नों पर दावा/आपत्ति प्रस्तुत करने पर उन पर विचार नहीं किया जावेगा।

2. दावाकर्ता का रोल नंबर	नाम	परीक्षा का नाम एवं प्रश्न पत्र सेट	प्रश्न क्रमांक एवं विषय	मॉडल आंसर में दिया गया उत्तर	दावाकर्ता का उत्तर	दावाकर्ता का द्वारा अपने उत्तर के लिए स्पष्ट एवं पूर्ण कारण	अपने दावा के सम्बन्ध में प्रस्तुत प्रमाण के पृष्ठों की संख्या
--------------------------	-----	------------------------------------	-------------------------	------------------------------	--------------------	---	---

3. प्राप्त दावा/आपत्ति के परीक्षण पश्चात् विषय विशेषज्ञों द्वारा अंतिम निर्णय लिया जावेगा।
4. दावा/आपत्ति के सम्बन्ध में विषय विशेषज्ञों का निर्णय ही मान्य किया जावेगा।


 21/06/2019
ADVISOR, C.G. VYAPAM, RAIPUR
 Advisor
 C.G Professional Examination Board
 Atal Nagar, Distt-Raipur (C.G)

PRe DLEd EXAM (BDED) - 2019 (MODEL ANSWER)

Sub. Code - 9120/TF-DT/PP-E (EVENING SHIFT)

SET-C

Qu.	Ans.	Qu.	Ans.	Qu.	Ans.	Qu.	Ans.	Qu.	Ans.	Qu.	Ans.	Qu.	Ans.	Qu.	Ans.	Qu.	Ans.	Qu.	Ans.
1	D	11	B	21	C	31	D	41	D	51	D	61	C	71	C	81	C	91	D
2	D	12	C	22	B	32	C	42	C	52	B	62	D	72	A	82	A	92	C
3	C	13	D	23	D	33	D	43	D	53	B	63	D	73	D	83	B	93	B
4	D	14	B	24	D	34	A	44	B	54	B	64	B	74	A	84	C	94	C
5	B	15	A	25	B	35	C	45	D	55	A	65	B	75	A	85	D	95	A
6	C	16	D	26	A	36	A	46	C	56	D	66	D	76	B	86	A	96	C
7	A	17	C	27	C	37	B	47	C	57	D	67	D	77	C	87	A	97	B
8	A	18	D	28	C	38	A	48	C	58	C	68	D	78	D	88	A	98	B
9	D	19	B	29	C	39	D	49	B	59	C	69	C	79	C	89	D	99	A
10	D	20	A	30	B	40	C	50	C	60	B	70	C	80	C	90	D	100	D

1. अभ्यर्थी वेबसाइट में प्रदर्शित उत्तरों पर सप्रमाण दावा/आपत्ति 26.06.2019 को संध्या 5.00 बजे तक नीचे दिये गये प्रारूप में व्यापम में स्वयं उपस्थित होकर, डाक द्वारा या व्यापम के ई-मेल आई डी cgvyapam.preexam.dawaapatti19@gmail.com पर भेजे जा सकते हैं। नियत दिनांक एवं समय के पश्चात् प्राप्त दावा/आपत्ति स्वीकार नहीं किया जावेगा। बिना प्रमाण का दावा/आपत्ति को पूर्णतः अमान्य किया जावेगा। नीचे दिए गए प्रपत्र में, प्रत्येक प्रश्न के लिए अलग सा पृष्ठ का प्रयोग करते हुए दावा/आपत्ति प्रस्तुत न होने पर भी उसे पूर्णतः अमान्य किया जावेगा। एक पृष्ठ में एक से अधिक प्रश्नों पर दावा/आपत्ति प्रस्तुत करने पर उन पर विचार नहीं किया जावेगा।

2. दावाकर्ता का रोल नंबर	नाम	परीक्षा का नाम एवं प्रश्न पत्र सेट	प्रश्न क्रमांक एवं विषय	मॉडल आंसर में दिया गया उत्तर	दावाकर्ता का उत्तर	दावाकर्ता का द्वारा अपने उत्तर के लिए स्पष्ट एवं पूर्ण कारण	अपने दावा के सम्बन्ध में प्रस्तुत प्रमाण के पृष्ठों की संख्या
--------------------------	-----	------------------------------------	-------------------------	------------------------------	--------------------	---	---

3. प्राप्त दावा/आपत्ति के परीक्षण पश्चात् विषय विशेषज्ञों द्वारा अंतिम निर्णय लिया जावेगा।
4. दावा/आपत्ति के सम्बन्ध में विषय विशेषज्ञों का निर्णय ही मान्य किया जावेगा।


 ADVISOR, C.G. VYAPAM, RAIPUR

Advisor
 C.G Professional Examination Board
 Atal Nagar, Distt-Raipur (C.G)

PRe DLEd EXAM (BDED) - 2019 (MODEL ANSWER)

Sub. Code - 9120/TF-DT/PP-E (EVENING SHIFT)


SET-D

Qu.	Ans.	Qu.	Ans.	Qu.	Ans.	Qu.	Ans.	Qu.	Ans.	Qu.	Ans.	Qu.	Ans.	Qu.	Ans.	Qu.	Ans.	Qu.	Ans.
1	C	11	D	21	D	31	D	41	C	51	C	61	B	71	C	81	D	91	B
2	D	12	C	22	C	32	C	42	D	52	D	62	C	72	D	82	D	92	D
3	D	13	D	23	B	33	D	43	A	53	A	63	B	73	D	83	A	93	C
4	B	14	B	24	A	34	C	44	D	54	C	64	D	74	C	84	A	94	C
5	D	15	A	25	C	35	B	45	A	55	B	65	A	75	C	85	D	95	B
6	D	16	B	26	D	36	C	46	B	56	B	66	D	76	D	86	A	96	A
7	C	17	D	27	C	37	A	47	D	57	A	67	A	77	C	87	C	97	C
8	A	18	B	28	C	38	B	48	C	58	D	68	D	78	C	88	A	98	B
9	A	19	A	29	D	39	D	49	C	59	B	69	D	79	B	89	C	99	A
10	B	20	B	30	C	40	C	50	C	60	B	70	C	80	D	90	B	100	D

1. अभ्यर्थी वेबसाइट में प्रदर्शित उत्तरों पर सप्रमाण दावा/आपत्ति 26.06.2019 को संध्या 5.00 बजे तक नीचे दिये गये प्रारूप में व्यापम में स्वयं उपस्थित होकर, डाक द्वारा या व्यापम के ई-मेल आई डी cgvyapam.preexam.dawaapatti19@gmail.com पर भेजे जा सकते हैं। नियत दिनांक एवं समय के पश्चात् प्राप्त दावा/आपत्ति स्वीकार नहीं किया जावेगा। बिना प्रमाण का दावा/आपत्ति को पूर्णतः अमान्य किया जावेगा। नीचे दिए गए प्रपत्र में, प्रत्येक प्रश्न के लिए अलग सा पृष्ठ का प्रयोग करते हुए दावा/आपत्ति प्रस्तुत न होने पर भी उसे पूर्णतः अमान्य किया जावेगा। एक पृष्ठ में एक से अधिक प्रश्नों पर दावा/आपत्ति प्रस्तुत करने पर उन पर विचार नहीं किया जावेगा।

दावाकर्ता का रोल नंबर	नाम	परीक्षा का नाम एवं प्रश्न पत्र सेट	प्रश्न क्रमांक एवं विषय	मॉडल आंसर में दिया गया उत्तर	दावाकर्ता का उत्तर	दावाकर्ता का द्वारा अपने उत्तर के लिए स्पष्ट एवं पूर्ण कारण	अपने दावा के सम्बन्ध में प्रस्तुत प्रमाण के पृष्ठों की संख्या
-----------------------	-----	------------------------------------	-------------------------	------------------------------	--------------------	---	---

3. प्राप्त दावा/आपत्ति के परीक्षण पश्चात् विषय विशेषज्ञों द्वारा अंतिम निर्णय लिया जावेगा।
4. दावा/आपत्ति के सम्बन्ध में विषय विशेषज्ञों का निर्णय ही मान्य किया जावेगा।


 21/06/2019
ADVISOR, C.G. VYAPAM, RAIPUR
 Advisor

C.G Professional Examination Board
 Atal Nagar, Distt-Raipur (C.G)